



Il dolce preferito

1 Nella classe 4^a B è stata svolta un'indagine statistica per rilevare qual è il dolce preferito dagli alunni.

Osserva l'**istogramma** e rispondi alle domande.



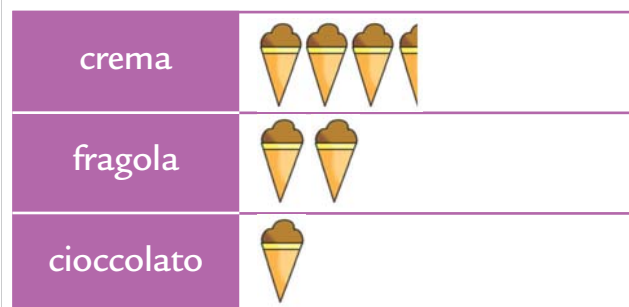
 = 1 bambino


RICORDA!

La **moda** è il dato che si presenta il maggior numero di volte tra i dati raccolti.

- Quanti tipi di dolci sono stati presi in considerazione?
- Quali dolci hanno avuto meno preferenze?
- Quale dolce ha avuto più preferenze?
- La moda dell'indagine è

2 Osserva l'**ideogramma** relativo a un'indagine sul gusto di gelato preferito e completa.



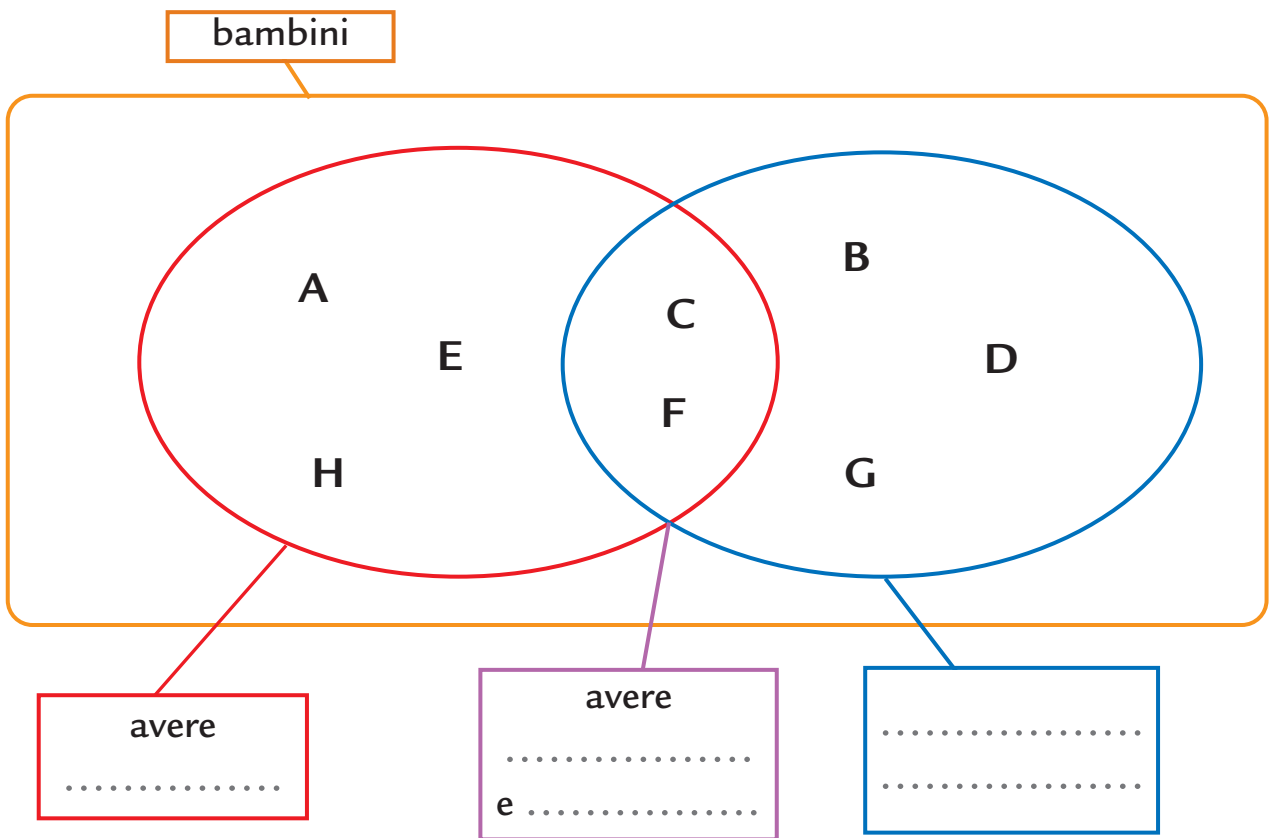
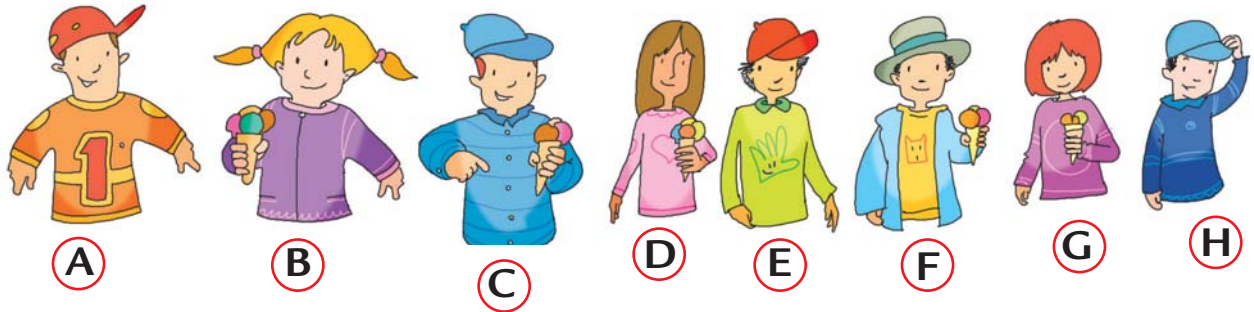
 = 10 preferenze

La moda è

.....

Bambini al parco

1 Scopri le proprietà in base alle quali è stata fatta la classificazione dei bambini nel **diagramma di Venn** e completa i riquadri.



2 Vero o falso? Colora il quadretto giusto.

- Tutti i bambini hanno il berretto. V F
- Almeno un bambino ha il gelato. V F
- Nessun bambino non ha berretto né gelato. V F
- Almeno un bambino ha sia berretto sia gelato. V F
- Ogni bambino ha il berretto. V F