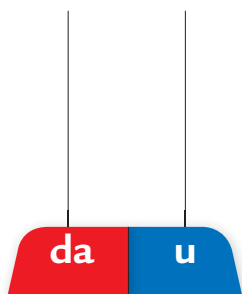


Addizioni con il cambio

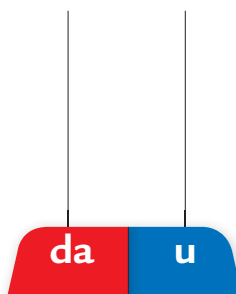
1 Esegui le addizioni prima con l'**abaco** e poi in **colonna**.

$$38 + 37 = \dots$$



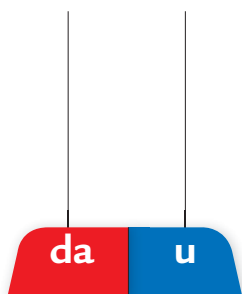
$$\begin{array}{r} \text{da u} \\ 38 + \\ 37 = \\ \hline \square \end{array}$$

$$43 + 49 = \dots$$




$$\begin{array}{r} \text{da u} \\ 43 + \\ 49 = \\ \hline \square \end{array}$$

$$55 + 28 = \dots$$



$$\begin{array}{r} \text{da u} \\ 55 + \\ 28 = \\ \hline \square \end{array}$$

$$16 + 76 = \dots$$



$$\begin{array}{r} \text{da u} \\ 16 + \\ 76 = \\ \hline \square \end{array}$$

2 Metti in colonna e calcola.

$$24 + 67 = \dots$$

$$33 + 49 = \dots$$

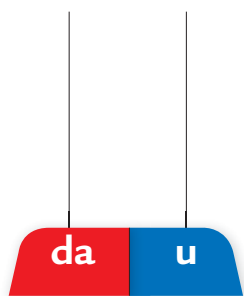
$$57 + 17 = \dots$$

$$62 + 18 = \dots$$

Sottrazioni con il prestito

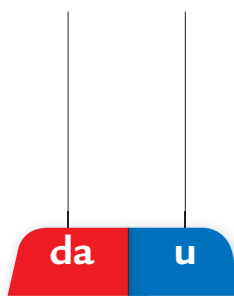
1 Esegui le sottrazioni prima con l'**abaco** e poi in **colonna**.

$42 - 25 = \dots$



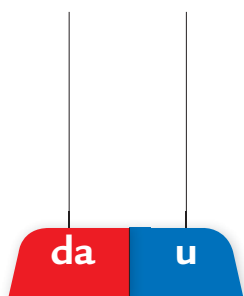
$$\begin{array}{r} \text{da u} \\ 42 - \\ 25 = \\ \hline \square \end{array}$$

$56 - 37 = \dots$



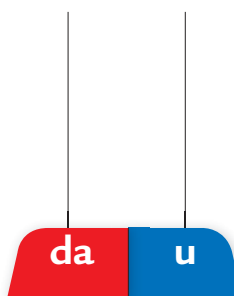
$$\begin{array}{r} \text{da u} \\ 56 - \\ 37 = \\ \hline \square \end{array}$$

$61 - 44 = \dots$



$$\begin{array}{r} \text{da u} \\ 61 - \\ 44 = \\ \hline \square \end{array}$$

$73 - 56 = \dots$



$$\begin{array}{r} \text{da u} \\ 73 - \\ 56 = \\ \hline \square \end{array}$$

2 Metti in colonna e calcola.

$30 - 18 = \dots$

$63 - 48 = \dots$

$55 - 39 = \dots$

$76 - 59 = \dots$

Problemi con addizioni e sottrazioni

1 Leggi il testo dei problemi, risolvi con l'operazione e poi rispondi.

- Sul trenino del parco divertimenti ci sono 12 bambini sulla carrozza blu, 16 bambini sulla carrozza rossa e 10 bambini sulla carrozza gialla.



Quanti sono i bambini sul trenino?

Operazione =

Risposta

- Nel gioco del tiro a segno, Fabio ha totalizzato 26 punti nella prima partita e 32 punti nella seconda partita.




Quanti punti ha totalizzato in tutto?

Operazione =

Risposta

- Un gruppo di amici parte per una escursione sul Monte Cristallo. Negli zaini hanno portato 45 panini per il pranzo. Dopo il pranzo restano 10 panini.



Quanti panini hanno mangiato?

Operazione =

Risposta

- Elisa ha 25 anni, suo fratello Andrea ha 17 anni. Qual è la differenza di età tra i due fratelli?

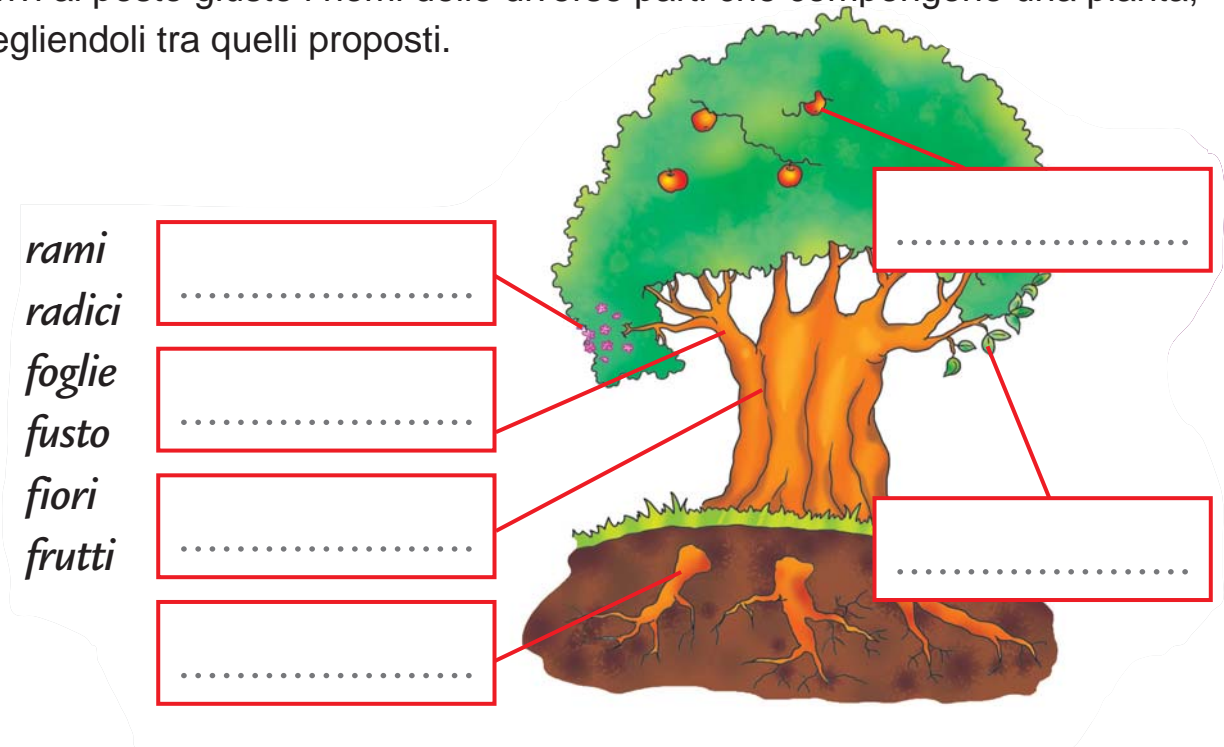


Operazione =

Risposta

Le parti di una pianta

1 Scrivi al posto giusto i nomi delle diverse parti che compongono una pianta, scegliendoli tra quelli proposti.



2 Completa le frasi collegandole con una freccia al riquadro esatto.

Tutte le piante...

luce e calore.

Le radici, infatti, penetrano nel terreno e assorbono...

anidride carbonica.

Dall'aria, invece, assorbono...

si nutrono.

Dal sole, le piante ricevono...

acqua e sali minerali.

3 Colora gli elementi che servono alla pianta per nutrirsi.

pioggia

anidride carbonica

luce

l'uomo

calore

sali minerali

frutto

stelle

fiori

acqua

sole

luna